



INVESTICE DO ROZVOJE VZDĚLÁVÁNÍ



Výukový materiál zpracovaný v rámci projektu EU peníze školám

Registrační číslo projektu:	CZ.1.07/1.4.00/21.3569
Šablona:	III/2 Inovace a zkvalitnění výuky prostřednictvím ICT
Název materiálu:	VY_32_INOVACE_12-15_Násobilka 6
Tematická oblast:	Matematika – malá násobilka
Autor:	Mgr. Martina Vajd'áková
Ročník:	3.
Datum vytvoření:	25. 2. 2014

Výstižný popis způsobu využití, metodické pokyny:	Procvičí si násobilku 6, záměnu činitelů při násobení.
--	--

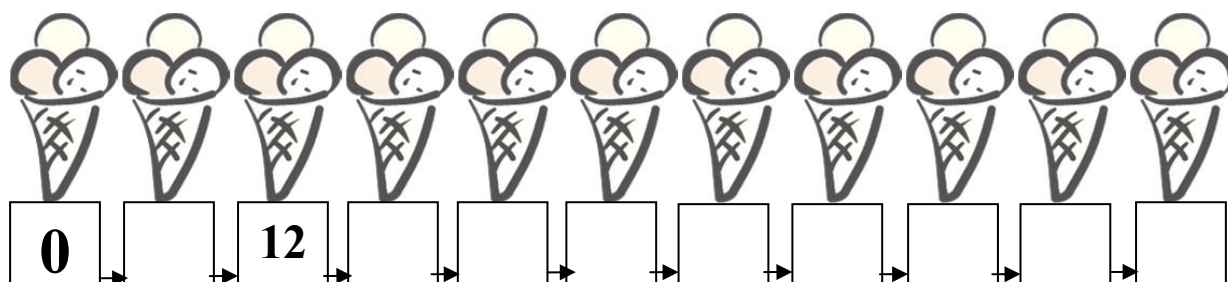
Klíčová slova:	Násobení 6, činitel, činitel, součin.
Druh učebního materiálu:	pracovní list



INVESTICE DO ROZVOJE VZDĚLÁVÁNÍ

Násobilka 6 – pracovní list

- 1. Ubongo si chtěl zapisovat prodej zmrzliny. Neví si s tím rady, zkus mu pomoci. Rada: násobky 6 (postupuj podle šipek):**



- 2. Vypočítej příklady:**

$6 \cdot 5 =$

$6 \cdot 9 =$

$7 \cdot 5 =$

$4 \cdot 6 =$

$4 \cdot 4 =$

$6 \cdot 8 =$

$5 \cdot 6 =$

$9 \cdot 5 =$

$9 \cdot 5 =$

$6 \cdot 6 =$

$8 \cdot 5 =$

$6 \cdot 10 =$

$9 \cdot 6 =$

$3 \cdot 6 =$

$4 \cdot 9 =$

$2 \cdot 6 =$

$5 \cdot 6 =$

$8 \cdot 3 =$

$5 \cdot 4 =$

$8 \cdot 6 =$

$2 \cdot 6 =$

$6 \cdot 7 =$

$4 \cdot 7 =$

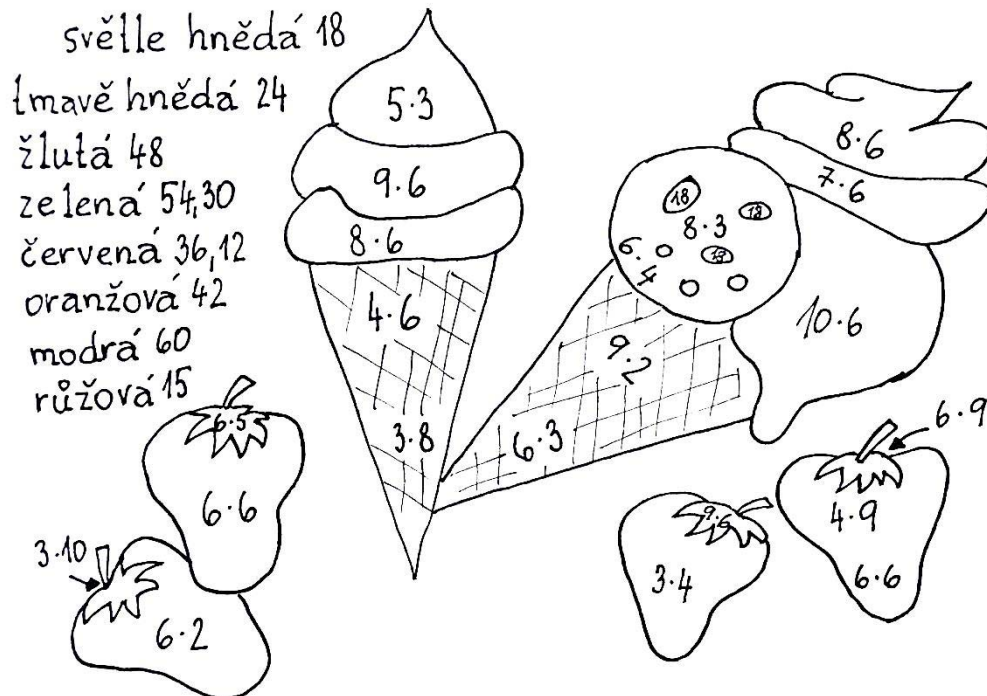
$4 \cdot 6 =$

$7 \cdot 6 =$

$0 \cdot 6 =$

$1 \cdot 8 =$

3. Vypočítej správně příklady, vybarvi obrázek a zkus hádat, jaké příchutě měly kopečky zmrzliny:



4. Ted' se z tebe stane pan učitel / paní učitelka. Zkus najít a správně opravit chyby, které udělal nepozorný žák:

$3 \cdot 6 = 12$

$7 \cdot 6 = 21$

$6 \cdot 4 = 51$

$6 \cdot 5 = 30$

$6 \cdot 7 = 42$

$6 \cdot 8 = 48$

$4 \cdot 6 = 20$

$9 \cdot 6 = 19$

$8 \cdot 5 = 16$

$6 \cdot 6 = 33$

$9 \cdot 5 = 10$

$5 \cdot 6 = 24$

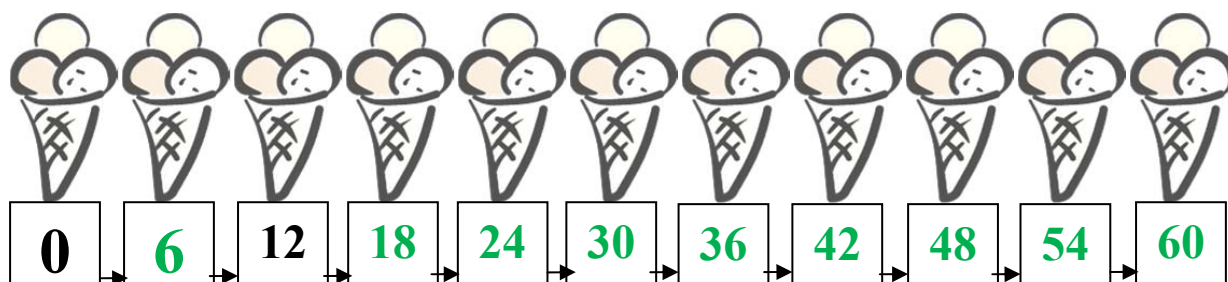
$6 \cdot 9 = 54$

$6 \cdot 10 = 24$

$2 \cdot 6 = 12$

Násobilka 6 – pracovní list **ŘEŠENÍ**

1. Ubongo si chtěl zapisovat prodej zmrzliny. Neví si s tím rady, zkus mu pomoci. Rada: násobky 6 (postupuj podle šipek):



2. Vypočítej příklady:

$$6 \cdot 5 = 30$$

$$6 \cdot 9 = 54$$

$$7 \cdot 5 = 35$$

$$4 \cdot 6 = 24$$

$$4 \cdot 4 = 16$$

$$6 \cdot 8 = 48$$

$$5 \cdot 6 = 30$$

$$9 \cdot 5 = 45$$

$$9 \cdot 5 = 45$$

$$6 \cdot 6 = 36$$

$$8 \cdot 5 = 40$$

$$6 \cdot 10 = 60$$

$$9 \cdot 6 = 54$$

$$3 \cdot 6 = 18$$

$$4 \cdot 9 = 36$$

$$2 \cdot 6 = 12$$

$$5 \cdot 6 = 30$$

$$8 \cdot 3 = 24$$

$$5 \cdot 4 = 20$$

$$8 \cdot 6 = 48$$

$$2 \cdot 6 = 12$$

$$6 \cdot 7 = 42$$

$$4 \cdot 7 = 28$$


$$4 \cdot 6 = 24$$

$$7 \cdot 6 = 42$$

$$0 \cdot 6 = 0$$

$$1 \cdot 8 = 8$$

3. Vypočítej správně příklady, vybarvi obrázek a zkus hádat, jaké příchutě měly kopečky zmrzliny:



4. Ted' se z tebe stane pan učitel / paní učitelka. Zkus najít a správně opravit chyby, které udělal nepozorný žák:

$$3 \cdot 6 = \cancel{12} \text{ 18}$$

$$7 \cdot 6 = \cancel{21} \text{ 42}$$

$$6 \cdot 4 = \cancel{51} \text{ 24}$$

$$6 \cdot 5 = 30$$

$$6 \cdot 7 = 42$$

$$6 \cdot 8 = 48$$

$$4 \cdot 6 = \cancel{20} \text{ 24}$$

$$9 \cdot 6 = \cancel{19} \text{ 54}$$

$$8 \cdot 5 = \cancel{16} \text{ 40}$$

$$6 \cdot 6 = \cancel{73} \text{ 36}$$

$$9 \cdot 5 = \cancel{10} \text{ 45}$$

$$5 \cdot 6 = \cancel{24} \text{ 30}$$

$$6 \cdot 9 = 54$$

$$6 \cdot 10 = \cancel{24} \text{ 60}$$

$$2 \cdot 6 = 12$$

Použité zdroje:

- vlastní obrázek
- klipart